

| |
|-----------------------|
| uitwerkbijlage |
|-----------------------|

Naam kandidaat _____ Kandidaatnummer _____

- 11 Vul de waarheidstabel verder in.

| a | b | Z |
|----------|----------|----------|
| 0 | 0 | |
| 1 | 0 | |
| 0 | 1 | |
| 1 | 1 | |

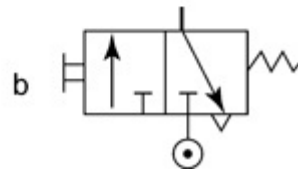
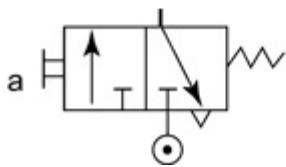
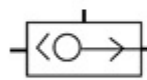
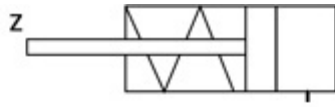
- 14 Zijn de onderdelen 5, 7 en 9 een actuator, een regeleenheid of een sensor?

| onderdeel | actuator | regeleenheid | sensor |
|-----------|-----------------|---------------------|---------------|
| 5 | | | |
| 7 | | | |
| 9 | | | |

- 18 Een voertuig staat stil, de motor draait en de koppeling is ingetrapt. Welke onderdelen van de koppeling draaien en welke staan stil?

| onderdeel | draait | staat stil |
|-----------------|---------------|-------------------|
| koppelingsplaat | | |
| prise-as | | |
| drukgroep | | |

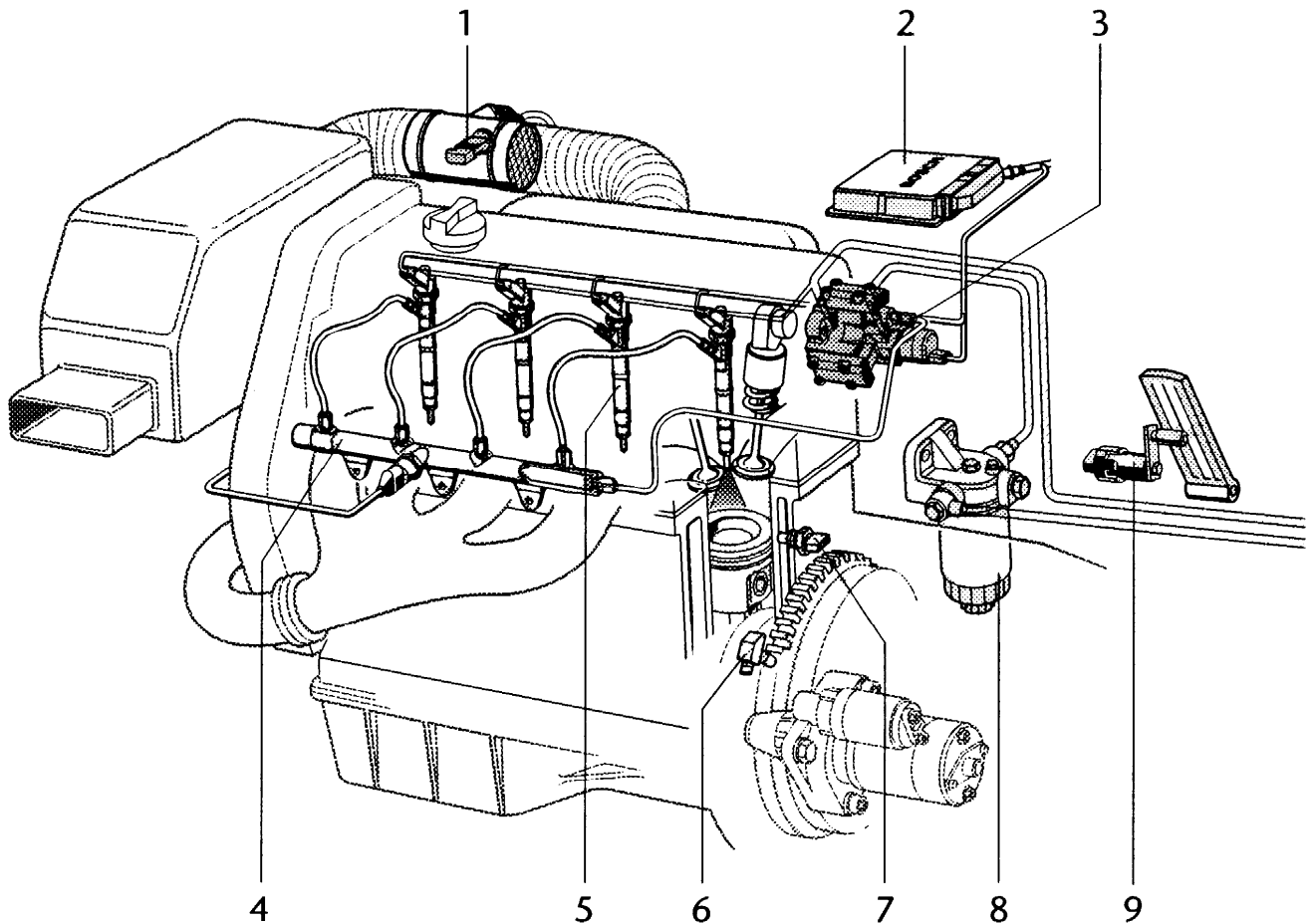
- 24 Sluit de componenten in de tekening juist aan: als ventiel a of b bediend wordt, zal zuigerstang Z naar buiten gaan.



- 33 Zijn de maatregelen hieronder milieu-eisen voor autobedrijven?
Geef wel of geen milieu-eis aan.

| | is wel milieu-eis | is geen milieu-eis |
|--|----------------------|-----------------------|
| De werkplaatsvloer is vloeistofdicht. | | |
| Er is genoeg verlichting in de werkplaats. | | |
| Bij elke werkplek is een filtersysteem voor uitlaatgassen. | | |
| De afvalstoffen worden gescheiden bewaard. | | |

- 40 Kleur alle hogedruk-brandstofleidingen in de tekening.







41 Welke motoronderdelen horen bij een smeersysteem en welke niet?

| | hoort wel bij smeersysteem | hoort niet bij smeersysteem |
|---|----------------------------|-----------------------------|
|  | | |
|  | | |
|  | | |
|  | | |
|  | | |

- 48 Voor welke branden is de brandblusser geschikt?
Geef wel of niet geschikt aan.

| | wel geschikt | niet geschikt |
|---------------------------|--------------|---------------|
| voor vloeistofbranden | | |
| voor metaalbranden | | |
| voor gasbranden | | |
| voor brand van vaste stof | | |

- 58 Je gaat een band van een auto vervangen.
Welke van deze persoonlijke beschermingsmiddelen (PBM) gebruik je?
Geef wel of niet aan.

| PBM | wel | niet |
|---|-----|------|
|  | | |
|  | | |
|  | | |
|  | | |

VERGEET NIET DEZE UITWERKBIJLAGE IN TE LEVEREN